

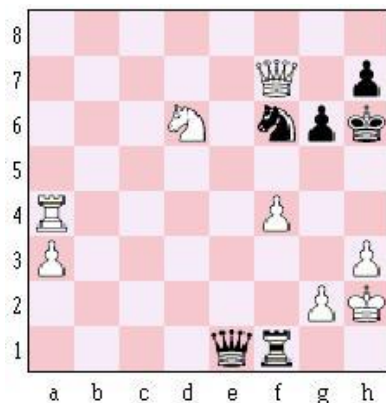
# チェスのサプリ

チェスのサプリ

戦術編6 (T6)

(ディフレクション)

24問 レベル2



函館チェスサークル

初版

## チェスのサプリ

チェスの詰碁、詰将棋のような問題集です。実戦を題材に、小学生でも使える**チェスが強くなるための栄養剤**（サプリ）としました。

## 戦術編

戦術（タクティクス）は、駒と駒のぶつかり合いに使う技で**チェスの基礎**といえる大切なテクニックです。

レベル1の基本に続き、レベル2（初級）の戦術を次の5種類に分けました。

T6：ディフレクション

T7：クリアランス

T8：リムービング

T9：パスポーン

T10：ブロックード、その他

## やり方

次の1手を当てます。黒番の場合もあります。できれば実戦だと思って、その手が指せるかどうか、相手の手をすべて考えるとさらに練習になります。

1問5分、それ以上時間がかかるなら、解答を見ます。1回で終わらず、すぐに正解が見えるようになるまで何回でも挑戦しましょう。

詰将棋とちがってメイトしなくても良し。最善の手を探せばいいのです。なお、**正解が2つない**ように努めました。

## 参考文献


- ◆ Simple Chess Tactics And Checkmate (by A.J.Gillam)
- ◆ Encyclopaedia Of Chess Middle Games (by N.Krogius)
- ◆ Learn Chess Tactics (by J.Nunn)

初版 2009年1月


## ディフレクション

ディフレクションは、駒を捨てて相手の駒の位置をずらすという技です。ですからより高度な想像力が必要になりますが、ぜひ身に付けてほしい基本です。


問 1 ○白番




問 2 ○白番



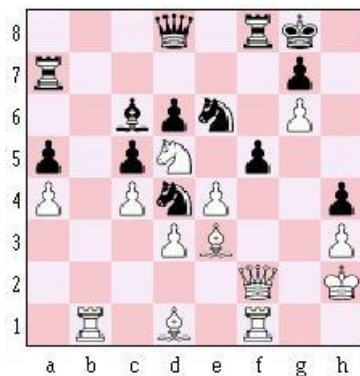
問 3 ○白番




問 4 ●黒番




問 5 ○白番




問 6 ○白番




問 7 ○白番




問 8 ●黒番




問 9 ●黒番




問 10 ○白番



問 11 ○白番



問 12 ●黒番



<解答> 3ページ

問 1 白 Q x h 7 +

1.Qxh7+ Rxh7 2.Rxg8#

問 2 白 N x d 6 +

1.Nxd6+ Nxd6 2.Ne7#

問 3 白 Q a 4 +

1.Qxa4! Qxa4 とクイーンを取れば、2.Nc7+ Kf8 3.Rd8+ Qe8 4.Rxe8#。また 1.…b5 とふせぐなら 2.Qxa5

問 4 黒 Q b 2

1.…Qb2! の直接のねらいは、2.…Rxa1 だが、白にはそれをふせぐ有効な手がない。2.Rxb2 Rxa1+ でも、2.Qd1 Qxf2+でもメイト

問 5 白 R b 8

1.Rb8! Qxb8 2.Qxh4 Rd8 4.Qh7+ Kf8 5.Qh8#

問 6 白 R g 8 +

1.Rg8+! Rxg8 2.Bxf6+ Rg7 3.Bxg7#

<解答> 4ページ

問 7 白 Q e 8 +

1.Qe8+! Rxe8 2.Bd5+ Re6 3.Bxe6+ …白勝勢

問 8 黒 R e 3 +

1. … Re3+! 2.g3 (2.fxe3 Qg3#) Rxg3+ 3.Kh2 (3.fxg3 Qxg3#) Qxf2+ 4.Kh1 Rh3#

問 9 黒 R a 8

1.…Ra8! 2.Qxa8 Bb4#、1. …Ra8! 2.Qb7 Ra2#

問 10 白 B f 5

1.Bf5! Qxf5 2.Qe7! (Qg7#がねらい) Qg6 3.Qe6+で c8 ルークを取って黒優勢。初手 Bf5 はスクエアーなので取るしかない


問 11 白 Q x c 7 +

1.Qxc7+ Rxc7 2.Rxd8+ Rc8 3.Rdxc8#

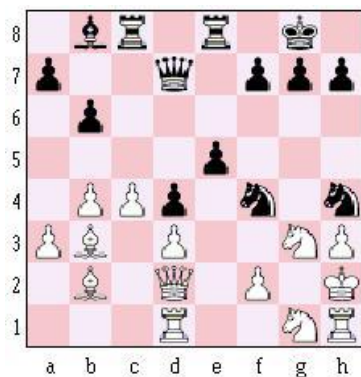
問 12 黒 Q d 4 +

1. … Qd4+ 2.Kh1 Qf2! 3.Rxf2 Re1+ 以下メイト。3.Qb5 とねばっても 3.…Re1! が決め手


問 13 ●黒番




問 14 ●黒番



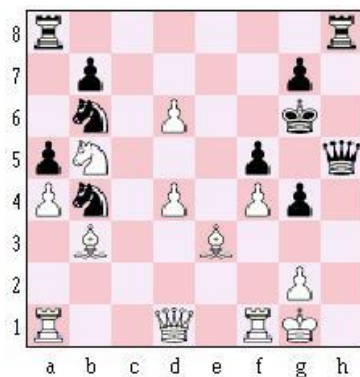
問 15 ○白番




問 16 ●黒番




問 17 ●黒番




問 18 ○白番




問 19 ●黒番




問 20 ●黒番




問 21 ○白番




問 22 ○白番



問 23 ●黒番



問 24 ○白番



<解答> 5 ページ

問 13 黒 Q x g 2 +

1. … Qxg2+! 2. Rxc2 Rb1+  
Rg1 3. Rbxg1#

問 14 黒 Q x h 3 +

1. … Qxh3+! 2. Nxb3 Nf3#

問 15 白 R x c 7 +

1. Rxc7+! Rxc7 2. Nb6+ Kb8  
3. Qxd8+ 白勝勢

問 16 黒 Q f 3

1. … Qf3!! (ねらいは Qg2#)  
2. Qxf3 Ra1+ メイトがふせげ  
ない。2. Qf1 とねばっても 2.  
… Ra1! 3. Rb1 Rxb1 となって  
同じこと

問 17 黒 N d 3

1. … Nd3! 2. Qxd3 g3 これ  
で 3. … Qh1# が受からない。白が  
ナイトを取らなければ 2. …  
Qh1# を止められない

問 18 白 R x h 6 +

1. Rxh6+!! Bxh6 2. Qxe5+  
Bg7 3. Qh2+ でメイトがさけら  
れない

<解答> 6 ページ

問 19 黒 N a 3 +

1. … Na3+! 2. Nxa3 Ke2 となり  
3. … d1Q が決定。初手 1. …  
Ke2? では 2. Nc3+ とされる

問 20 黒 R h 5 +

1. … Rh5+ 2. gxh5 Rxh3#

問 21 白 R g 5

1. Rg5! Qxf6 ( 1. … Qxg5  
2. Nxf7#) 2. Qe5! Qxe5 3. Nxf7#。  
Rg5 は黒の 1. … Qg1# をふせい  
でいることに注目

問 22 白 N d 7 +

連続サクリファイスでメイ  
ト。1. Nd7+! Bxd7 (フォーク  
なので取らないと不利になる)  
2. Qxc8+ Bxc8 3. Re8#

問 23 黒 N g 4 +

1. … Ng4+ 2. Bxg4 R8f2+  
3. Kh3 Rh1#

問 24 白 N f 5 +

1. Nf5+ Kh5 (1. … gxf5 はも  
ちろん 2. Qxf6+ Kh5 3. Qg5#)  
2. Qxh7+! Nxh7 3. g4#。このメ  
イトまで見えていると完ぺき